



وزارة التربية

إدارة الشؤون التعليمية

مراقبة الامتحانات وشؤون الطلبة

نموذج الإجابة

المرحلة المتوسطة

الفترة الدراسية الرابعة

المادة : الاجتماعيات

المنهج الكامل

الصف : السابع

العام الدراسي

2016 / 2015

محافظة مبارك الكبير التعليمية

٥

**السؤال الأول :- يتكون من (أ) و(ب) و(ج)****(أ) أكمل الفراغات التالية بما يناسبها :-**

- ١- يمتد وطننا العربي الكبير في قارتي آسيا و أفريقيا ١٧ ص
- ٢- من أشهر ملوك بابل ملك حمورابي ٥٨ ص
- ٣- أكثر دولة في الوطن العربي إنتاجاً واحتياطياً للنفط دولة السعودية ٩٩ ص
- ٤- عقد أكبر وأهم مؤتمر قمة عربية اقتصادية عام ٢٠٠٩م في دولة الكويت ١٤٦ ص
- ٥- تم إنشاء الصندوق الكويتي للتنمية الاقتصادية العربية عام ١٩٦١م ١٤٤ ص

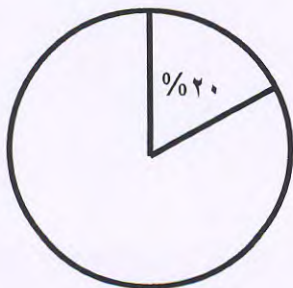
(ب) اختر الإجابة الصحيحة من بين البدائل

- (١) أكثر الدول العربية من حيث عدد السكان (السعودية - السودان - مصر - العراق) ص ٧٤
- (٢) من أشهر ملوك سبأ وورد ذكرها في القرآن (زنبوبا - بلقيس - كليوباترا - نفرتيتي) . ص ٦٣
- (٣) تم إعلان قيام مجلس التعاون الخليجي في عام (١٩٧٩ - ١٩٨٠ - ١٩٨١ - ١٩٨٢) م . ص ١٤٢
- (٤) تتفرد اليمن بزراعة محصول (القطن - القمح - البن - الموز) ص ٨٦
- (٥) عرف السومريون نوعا من الكتابة (المسمارية - الابدجية - البابلية - الهيروغليفية) ص ٦٠

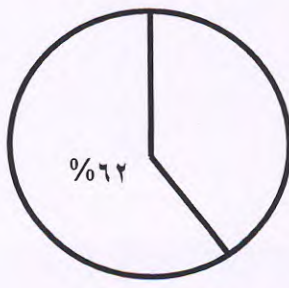
(ج) فيما يلي توجد دوائر بيانية توضح إنتاج الوطن العربي في مجال النفط واحتياطيه والغاز الطبيعي على**مستوى العالم. ضع كل اختيار في الفراغ المناسب**

٣

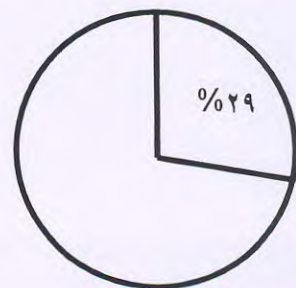
(إنتاج النفط - الغاز الطبيعي - احتياطي النفط)



إنتاج النفط



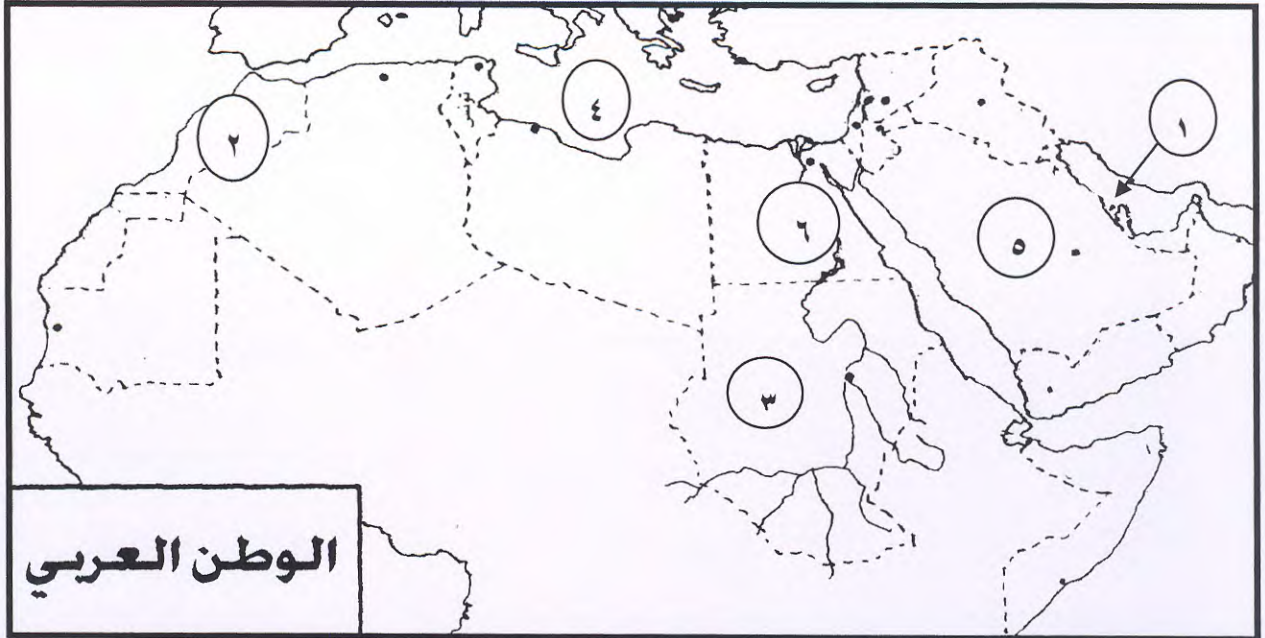
الغاز الطبيعي



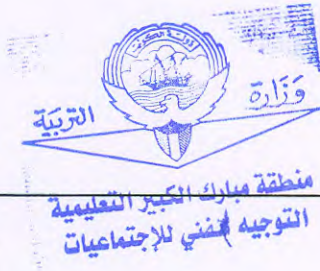
احتياطي النفط

٩٨ ص

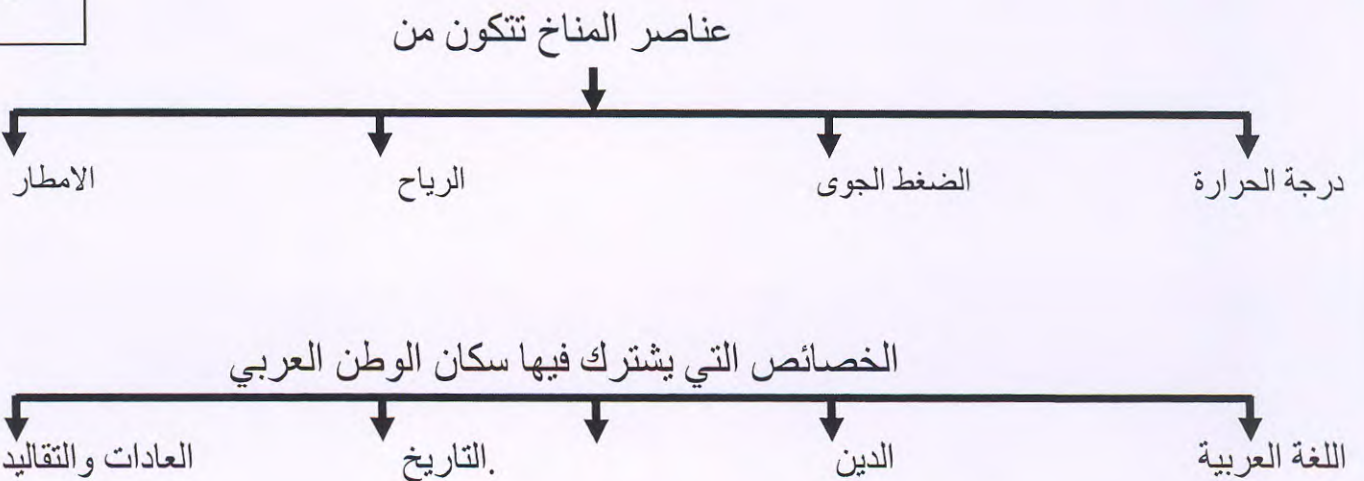
(أ) أنظر الى خريطة الوطن العربي الصماء ثم أجب عما يلي:-



- ١- أكبر دولة عربية من حيث انتاج الابقار يمثلها على الخريطة الرقم (٣) ص ١٩
- ٢- الدولة العربية الاولى فى انتاج الثروة السمكية يمثلها على الخريطة الرقم (٢) ص ٩٤
- ٣- هضبة نجد يمثلها على الخريطة الرقم (٥) ص ٢٨
- ٤- الخليج العربى يحمل على الخريطة رقم (١) ص ٢٥
- ٥- الحضارة المصرية القديمة (٦) .



(ب) أكمل المخطط السهمي :-



ج) اكتب اسم المصطلحات الآتية بين القوسين فيما يلي

٣

- ١- انجراف التربة وزحف الرمال على الأراضي الزراعية يسمى (التصحر) . ص ١٢٢
- ٢- مياه توجد في باطن الارض تسمى (المياه الجوفية) . ص ٤٦
- ٣- بقايا عضوية على هيئة نباتات وحيوانات ترسبت في عصور قديمة (النفط) . ص ٩٧

السؤال الثالث :- يتكون من (أ) و(ب)

٥

(أ) عرف المفاهيم التالية :

- ١- أفلاج مجرى صغير مائي في الارض ص ٤٦
- ٢- تضامن عربي العمل على توثيق الصلات بين الدول العربية وحماية مصالحها السياسية الاقتصادية ١٣٩
- ٣- مناخ : حالة الجو لفترة زمنية طويلة ص ٣٣
- ٤- نمو سكاني : تزايد عدد السكان من عام لآخر نتيجة للزيادة الطبيعية والهجرة ص ٧٩
- ٥- طاقة : قوى محركة للألات وعنصر مهم للتقدم الاقتصادي ص ٩٧

٥



(ب) علل لما يأتي :

- ١- يتمتع الوطن العربي بموقع استراتيجي هام .
- لانه يقع في وسط العالم ويطل على خمس مسطحات مائية ص ٢١
- ٢- يطلق على الغاز الطبيعي بالطاقة النظيفة .
- لانه لا ينتج عن احتراقه أى ملوثات ص ١٠٠
- ٣- اهتمام المصريين القدماء بتحنيط جثث موتاهم .
- لانهم يعتقدون في حياة البعث والخلود أى أن الروح تعود للجسد مرة ثانية ص ٥٥
- ٤- قلة حجم النقل النهري في الوطن العربي .
- لانه لا يوجد في الوطن العربي سوا نهري النيل ودجلة والفرات ص ١١٥
- ٥- تعتبر حضارة دلمون مركز مهم للمواصلات البحرية .
- لانه تقع في وسط الخليج العربي ص ٦٦

السؤال الرابع :- يتكون من (أ) و(ب)

(أ) أذكر اثنين من كلا مما يأتي :

- ١- الأسباب التي تحد من استثمار الأراضي الزراعية في الوطن العربي
- نقص موارد المياه - ارتفاع نسبة الملوحة في التربة - اتباع الأساليب التقليدية - قلة الأيدي العاملة ص ٨٨
- ٢- أهداف التنمية المستدامة .
- تأمين مستوى معيشى لائق - حماية الامن المائى ومصادر الطاقة - ضمان حق التعليم والرعاية الصحية ص ١٣٨
- ٣- طرق النقل في الوطن العربي .
- الطرق البرية - الطرق المائية - الطرق الجوية
- ٤- طرق انتقال الحضارة الاسلامية الى اوربا ص ١١٣
- بلاد الاندلس - جزيرة صقلية - بلاد الشام ص ٦٩
- ٥- مقومات قيام الصناعة
- مقومات طبيعية - مقومات بشرية ص ١٠٧



(ب) اقرأ الفقرة التالية ثم اجب عن الاسئلة

(التلوث البيئى هو الضرر الذى يلحق بالتربة والهواء والماء وهو من اهم واخطر المشاكل التى تواجه شعوب العالم اليوم ويتم مواجهتها على مستوى على حيث عقد اكبر مؤتمر للامم المتحدة فى مدينة ريودى جانيرو بالبرازيل عام ١٩٩٢م وعرف بأسم قمة الارض لمواجهة مشكلة التلوث البيئى)

- ١- عرف التلوث البيئى : هو الضرر الذى يلحق بالتربة والهواء والماء ص ١٣٠
- ٢- من اسباب التلوث البيئى عوادم السيارات - دخان المصانع - المواد البلاستيكية - تراكم النفايات ص ١٣٠
- ٣- عقد اول مؤتمر لمواجهة التلوث البيئى فى مدينة ريودى جانيرو ص ١٣١
- ٤- أكتب الحلول المناسبة للحد من مشكلة التلوث البيئى .
- متروك للطالب (حسب ما يراه المعلم)

مع أطيب الأمنيات بالنجاح والتوفيق